

VUXPM38

संकलित परीक्षा - II
SUMMATIVE ASSESSMENT - II (2015-16)
सामाजिक विज्ञान/SOCIAL SCIENCE
कक्षा - IX/ Class - IX

निर्धारित समय : 3 घण्टे
Time allowed : 3 hours

अधिकतम अंक : 90
Maximum Marks : 90

सामान्य निर्देश :

- इस प्रश्न पत्र में दो खंड (खंड क तथा खंड ख) एवं कुल 30 प्रश्न हैं। प्रत्येक प्रश्न अनिवार्य है।
- प्रत्येक प्रश्न के सामने उसके अंक लिखे हुए हैं।
- प्रश्न क्रमांक 1 से 8 तक एक-एक अंक के हैं। इनके उत्तर एक शब्द अथवा एक वाक्य में दें।
- प्रश्न क्रमांक 9 से 20 तक प्रत्येक प्रश्न 3 अंक का है। इनमें से प्रत्येक प्रश्न का उत्तर 80 शब्दों से अधिक नहीं होना चाहिए।
- प्रश्न क्रमांक 21 से 26 तक प्रत्येक प्रश्न 5 अंक का है। इनमें से प्रत्येक प्रश्न का उत्तर 120 शब्दों से अधिक नहीं होना चाहिए।
- प्रश्न क्रमांक 27 और 28 मानचित्र सम्बन्धी प्रश्न 3-3 अंक के क्रमशः इतिहास और भूगोल से हैं। उत्तर लिखने के बाद मानचित्र को अपनी उत्तर पुस्तिका के अन्दर रखकर बांध दीजिए।
- प्रश्न क्रमांक 29 और 30 मुक्त पाठ पर आधारित हैं तथा प्रत्येक प्रश्न 5 अंक का है।

General Instructions :

- The question paper has two sections (Section A and Section B) with 30 questions in all. All questions are compulsory.
- Marks are indicated against each question.
- Questions from serial number 1 to 8 are very short answer type questions. Each question carries one mark.
- Questions from serial number 9 to 20 are 3 marks questions. Answer of these questions should not exceed 80 words each.
- Questions from serial number 21 to 26 are 5 marks questions. Answer of these questions should not exceed 120 words each.
- Question number 27 and 28 are map question of 3 marks each, from History and Geography respectively. After completion, attach the maps inside your answer book.
- Question number 29 and 30 are from Open Text themes and each question is of 5 marks.

खंड क / SECTION - A

- 1.1 बंजारा समुदाय के लोगों द्वारा जीविकोपार्जन के लिए किए जाने वाले कार्यों का उल्लेख कीजिए। 1
Mention the livelihood practices of the Banjaras.

OR/अथवा

- 1.2 कलांग कौन थे तथा वे किस कार्य में कुशल थे? 1
 Who were Kalangs and what were they skilled in ?

OR/अथवा

- 1.3 भारत में किस स्थान पर अंग्रेजों ने अफीम की खेती को प्रोत्साहन दिया? 1
 Where in India did the British encourage cultivation of opium ?
- 2 मानसूनी पवनें अपनी दिशा क्यों बदलती हैं? एक कारण दीजिए। 1
 Why do the Monsoon winds change their direction? Give one reason.
- 3 अधिकार से क्या अभिप्राय है? 1
 What is meant by right ?
- 4 भारत में मतदान के लिए न्यूनतम आयु क्या है? 1
 What is the minimum age for voting in India ?
- 5 मंडल आयोग की कोई एक सिफारिश लिखिए। 1
 Write any one recommendation of the Mandal Commission.
- 6 छोटे किसान की लिए किन्हीं दो आधारभूत जरूरतों के नाम लिखिए। 1
 Name any two basic requirements of a small farmer.
- 7 पी.एम.आर.वाइ. का विस्तारित रूप लिखिए। 1
 Write the full form of PMRY.
- 8 भारत में निर्धनता के प्रति सर्वाधिक असुरक्षित आर्थिक समूह कौन से हैं? 1
 Which are the most vulnerable groups of poverty among the economic groups in India ?
- 9.1 बीसवीं सदी में चरवाहों द्वारा पारंपरिक पेशा छोड़ने के पश्चात् उनके द्वारा अपनाए गए जीविकोपार्जन 3
 के किन्हीं तीन विभिन्न तरीकों को स्पष्ट कीजिए।
 Explain any three different livelihood practices adopted by the pastoralist in the 20th century, as they left their traditional occupations.

OR/अथवा

- 9.2 बागानों में भ्रजदूरों के रूप में कौन काम करते थे तथा उन के काम करने की परिस्थितियाँ कैसी थीं? 3
 Who worked as plantation workers and what were their working conditions ?

OR/अथवा

- 9.3 उन्नीसवीं शताब्दी के अन्तिम वर्षों में अमेरिका में होने वाले विलक्षण गेहूँ उत्पादन के किन्हीं तीन 3

कारणों को उजागर कीजिए।

Highlight any three reasons for the dramatic increase in wheat production in USA in late 19th century.

- 10.1 सत्रह सौ साठ तथा सत्तर के दशकों में क्रिकेट में क्या परिवर्तन आए तथा उनका खेल पर क्या प्रभाव पड़ा? 3
 What changes came to cricket in 1760s and 70s and how did it affect the game ?

OR/अथवा

- 10.2 विक्टोरियाई इंग्लैण्ड में, पहनाने की विभिन्न शैलियों ने महिलाओं की छवि एक कमजोर तथा दब्यु महिला जैसी कैसे बना दी? 3
 How did styles of clothing create the image of frail, submissive women in Victorian England?
- 11.1 ऐसा क्यों कहा जाता है कि, "वाटरलू का युद्ध इटन के खेल के मैदान में जीता गया।" व्याख्या कीजिए। 3
 "Why is it said that the Battle of Waterloo was won on the playing field of Eton". Explain.

OR/अथवा

- 11.2 यूरोप में समय के साथ परिधानों की लम्बाई किस प्रकार बदल गई? उदाहरणों सहित स्पष्ट कीजिए। 3
 How did length of clothes in Europe change with time ? Explain with examples.
- 12 भारत में सरकार द्वारा प्राकृतिक धरोहर की रक्षा के लिए कितने राष्ट्रीय उद्यान एवं वन्य प्राणी अभयवन बनाए गए हैं? 3
 सरकार द्वारा इन्हें क्यों स्थापित किया गया है ?
 How many National Parks and Wildlife sanctuaries have been set up by the government to take care of natural heritage of India ? Why have these been established by the government ?
- 13 व्यावसायिक संरचना किसे कहते हैं? इसे किस प्रकार वर्गीकृत किया गया है? स्पष्ट कीजिए। 3
 What is occupational structure ? How is it classified ? Explain.
- 14 दक्षिण-पश्चिम मानसून के द्वारा चेन्नई को कम वर्षा क्यों प्राप्त होती है? 3
 Why does Chennai receive less rainfall through South West monsoon ?
- 15 जनहित याचिका के संदर्भ में न्यायपालिका को लोगों का उच्च स्तरीय विश्वास क्यों प्राप्त है? स्पष्ट कीजिए। 3
 Why does Judiciary enjoy high level of confidence among people with reference to Public Interest Litigation (PIL) ? Give your view point.
- 16 चुनाव अभियान हेतु आदर्श आचार संहिता क्या है? 3
 What is the model code of conduct for election campaign ?
- 17 कमजोर वर्गों के शोषण से बचाव हेतु संविधान में किए गए किन्हीं तीन प्रावधानों को लिखिए। 3
 State any three provisions made in the constitution to prevent exploitation of the weaker sections.

18 भारत में निर्धनता उन्मूलन के संदर्भ में उपस्थित किन्हीं तीन प्रमुख चुनौतियों का उल्लेख कीजिए। 3
 Mention any three major challenges before India with respect to poverty alleviation.

19 निर्धनता को कम करने हेतु सरकार द्वारा प्रारंभ किए गए ग्रामीण रोजगार सृजन कार्यक्रम को स्पष्ट कीजिए। 3
 Explain the Rural Employment Generation Programme started by government to reduce poverty.

20 पंजाब, केरल एवं पश्चिम बंगाल में निर्धनता में कमी लाने हेतु उठाए गए प्रमुख उपायों को स्पष्ट कीजिए। 3
 Explain the principal measures taken in Punjab, Kerala and West Bengal to reduce poverty.

21.1 घुमंतू चरवाहों को उनके परंपरागत जीविकोपार्जन के साधनों को क्यों त्यागना पड़ा? कोई पाँच कारण दीजिए। 5
 Why did the Pastoral nomads give up their traditional livelihood practices? Give any five reasons.

OR/अथवा

21.2 घूम अथवा घुमंतू कृषि किसे कहते हैं? इस का चलन कहाँ पर है? इसकी मुख्य विशेषताओं का वर्णन कीजिए। 5
 What is swidden agriculture? Where is it practised? Describe its main features.

OR/अथवा

21.3 भारत में अफीम के उत्पादन के बारे में अंग्रेज इतने उत्सुक क्यों थे? किन्हीं पाँच कारणों की व्याख्या कीजिए। 5
 Why were the British keen on growing opium in India? Explain any five reasons.

22.1 शिक्षा के क्षेत्र में क्रिकेट के मूल्य पर, रग्बी स्कूल के हेडमास्टर थॉमस आर्नोल्ड तथा महात्मा गाँधी के विचारों में अन्तर स्पष्ट कीजिए। 5
 Differentiate between the views of Thomas Arnold, the headmaster of Rugby School, and Mahatma Gandhi on the value of cricket in education.

OR/अथवा

22.2 यह कहना कहाँ तक उचित है कि मोहनदास गांधी से महात्मा गाँधी बनने तक का सफर उनके पहनावे के बदलाव के साथ जुड़ा है? 5
 How far is it correct to say that the transition of Mohandas Gandhi into Mahatma Gandhi is evidence in the transformation of his clothing?

23

| स्टेशन | अक्षांश | ऊँचाई |
|--------|---------|--------|
| A | 12° उतर | 909 मी |
| B | 26° उतर | 160 मी |

5

उपरोक्त तालिका का अध्ययन कीजिए एवं निम्नलिखित प्रश्नों का उत्तर दीजिए।

- (a) स्टेशन A पर किस प्रकार की जलवायु पायी जाती है ? क्यों ?
 (b) स्टेशन B पर किस प्रकार की जलवायु पायी जाती है ? क्यों ?

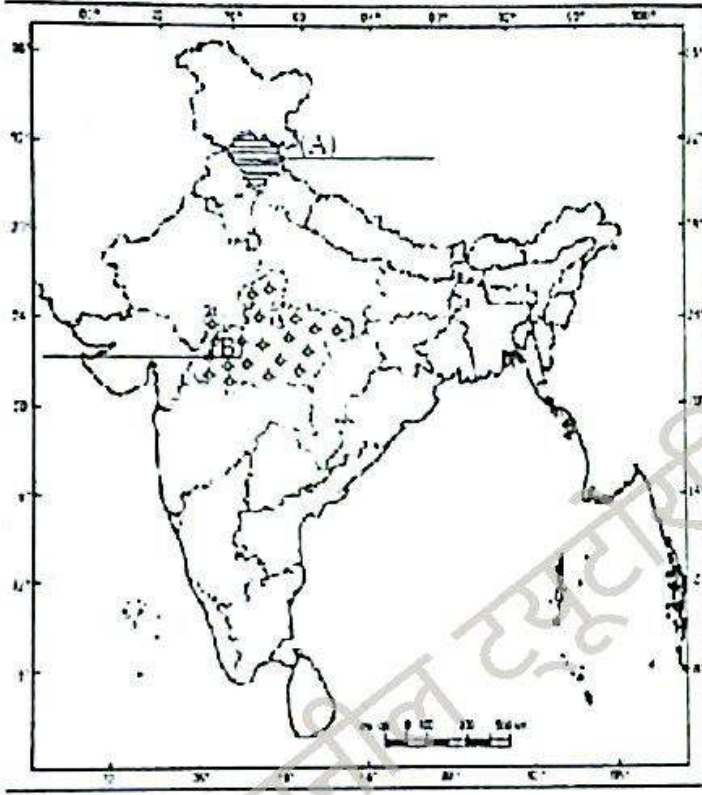
| Station | Latitude | Altitude |
|---------|-------------|----------|
| A | 12 degree N | 909 mts. |
| B | 26 degree N | 160 mts. |

Study the table given above and answer the following questions:

- (a) What type of climate does station A have ? Why?
 What type of climate does station B have ? Why?
- 24 “भारत में वन्य जीव संसाधनों के क्षीयमान होने का मुख्य कारण लालची शिकारियों द्वारा शिकार करना है।” इस कथन की पुष्टि कीजिए और इस चुनौती पर विजय पाने के कुछ उपाय सुझाइए।
 “The main reason for the dwindling wildlife resources in India is hunting by greedy hunters”. Support the statement and suggest some steps to overcome this threat. 5
- 25 वर्णन कीजिए कि, भारत में ‘चुनाव तिथि’ के दिन किस प्रकार मतदान किया जाता है।
 Describe how polling is done on the election day in India. 5
- 26 आप कैसे कह सकते हैं कि भारत में लोक सभा को राज्य सभा से अधिक शक्तियां प्राप्त हैं? स्पष्ट कीजिए।
 How can you say that the lok Sabha is more powerful than the Rajya Sabha in India ? Explain. 5
- परीक्षार्थी को प्रश्न संख्या 27a, 27b एवं 27c में से किसी एक मानचित्र प्रश्न का उत्तर देना है। प्रश्न संख्या 28 अनिवार्य है। मानचित्र प्रश्नपत्र में संलग्न हैं।
 The student has to attempt any one map question from question numbers 27a, 27b and 27c. Question no. 28 is compulsory. The maps are attached with the question paper.
- 27a दिए हुए भारत के राजनीतिक रेखामानचित्र में A और B पर दो लक्षण चिह्नित किये गए हैं। नीचे दी गयी जानकारी के आधार पर इन लक्षणों की पहचान कर मानचित्र में ही चिह्नित रेखाओं पर उनके सही नाम लिखिए :
 (A) गद्दी चरवाहों से संबंधित राज्य।
 (B) राज्य जहाँ बंजारे रहते हैं।
 उसी मानचित्र पर निम्नलिखित को उपयुक्त संकेत द्वारा दर्शाइये एवं उसका नाम लिखिए :
 (C) स्थान : जहाँ वार्षिक कैट मेले का आयोजन होता है।
 नोट : निम्नलिखित प्रश्न केवल दृष्टिबाधित परीक्षार्थियों के लिए मानचित्र प्रश्न के स्थान पर हैं :
 (27.1) गद्दी चरवाहों से संबंधित राज्य का नाम लिखिए।
 (27.2) किसी एक राज्य का नाम लिखिए जहाँ बंजारे रहते हैं।
 (27.3) वार्षिक कैट मेले का आयोजन किस स्थान पर किया जाता है ?
 Two items A and B are shown in the given political outline map of India. Identify these items with the help of following information and write their correct names on the lines marked on the map.
 (A) State related to the Gaddi shepherds.
 (B) State where Banjaras live.
 On the same political outline map of India, locate and label the following item with appropriate symbol.
 (C) Place : where camel fair is organised annually.
 Note : The following questions are for the visually impaired candidates only in lieu of map question.

- (27.1) Name the state which is related to the Gaddi shepherds.
 (27.2) Name a state where Banjaras live.
 (27.3) At which place is camel fair organised annually?

Political Map of India



OR/अथवा

27b दिए हुए भारत के राजनीतिक रेखामानचित्र में A और B पर दो लक्षण चिह्नित किये गए हैं। नीचे दी गयी जानकारी के आधार पर इन लक्षणों को पहचान कर मानचित्र में ही चिह्नित रेखाओं पर उनके सही नाम लिखिए :

(A) स्थान : जहाँ प्रथम इम्पीरियल फॉरेस्ट रिसर्च इन्स्टीट्यूट स्थापित किया गया था।

(B) अल्लूरी सीताराम राजू से संबंधित राज्य।

उसी मानचित्र पर निम्नलिखित को उपयुक्त संकेत द्वारा दर्शाइये एवं उसका नाम लिखिए :

(C) सिंहभूम वन क्षेत्र।

नोट : निम्नलिखित प्रश्न केवल दृष्टिबाधित परीक्षार्थियों के लिए मानचित्र प्रश्न के स्थान पर हैं :

(27.1) उस स्थान का नाम लिखिए जहाँ प्रथम इम्पीरियल फॉरेस्ट रिसर्च इन्स्टीट्यूट स्थापित किया गया।

(27.2) उस राज्य का नाम लिखिए जो अल्लूरी सीताराम राजू से संबंधित है।

(27.3) सिंहभूम वन क्षेत्र किस राज्य में अवस्थित है ?

Two items A and B are shown in the given political outline map of India. Identify these items with the help of following information and write their correct names on the lines marked on the map.

(A) Place : where first Imperial Forest Research Institute was established.

(B) State related to Sitaram Raju.

On the same political outline map of India, locate and label the following item with appropriate symbol.

(C) Singhbhoom forest area.

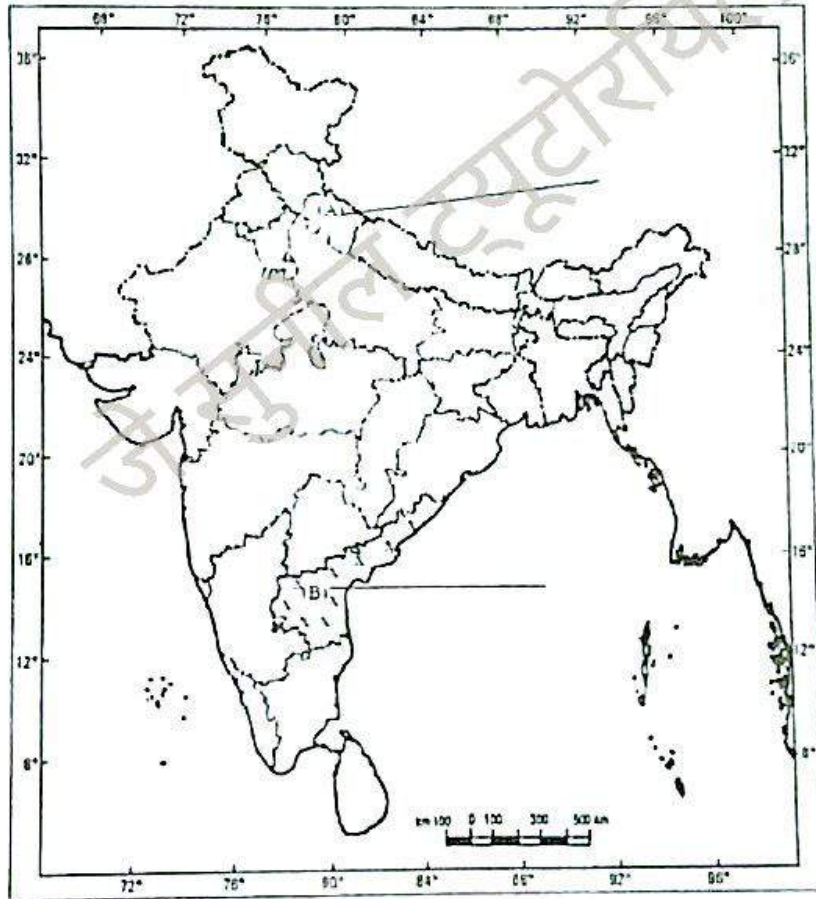
Note: The following questions are for the visually impaired candidates only in lieu of map question.

(27.1) Name the place where the first Imperial Forest Research Institute was established.

(27.2) Name the state which is related to Alluri Sitaram Raju.

(27.3) In which state of India is Singhbhoom forest area located ?

Political Map of India



OR/अथवा

- 27c (a) दिए हुए भारत के राजनीतिक रेखामानचित्र में A और B पर दो लक्षण चिन्हित किये गए हैं। नीचे दी गयी 3 जानकारी के आधार पर इन लक्षणों की पहचान कर मानचित्र में ही चिन्हित रेखाओं पर उनके सही नाम लिखिए :
- (A) राज्य जहाँ ब्रिटिश द्वारा किसानों पर अफीम की खेती के लिए दबाव डाला जाता था।
- (B) राज्य जहाँ ब्रिटिश प्रभाव के बिना अफीम की खेती होती थी।

(b) उसी मानचित्र पर निम्नलिखित को उपयुक्त संकेत द्वारा दर्शाइये एवं उसका नाम लिखिए :

(C) वह केन्द्र जहाँ अंग्रेजों ने आफ़ीम के व्यापार में एकाधिकार स्थापित किया था।

नोट : निम्नलिखित प्रश्न केवल दृष्टिव्याधित परीक्षार्थियों के लिए मानचित्र प्रश्न के स्थान पर हैं:

(27.1) राज्य का नाम लिखिए जहाँ ब्रिटिश सरकार द्वारा अफ़ीम के व्यापार पर एकाधिकार प्राप्त कर लिया गया।

(27.2) उस राज्य का नाम लिखिए जहाँ प्लासी की लड़ाई हुई थी।

(27.3) राज्य का नाम लिखिए जहाँ से बहुत अधिक मात्रा में अफ़ीम बाहर जाता था।

(a) Two items A and B are shown in the given political outline map of India. Identify these items with the help of the following information and write their correct names on the lines marked on the map.

(A) State where British forced the farmers to grow opium.

(B) The state where opium was grown without British influence.

(b) On the same political outline map of India, locate and label the following items with appropriate symbol.

(C) The centre where British established monopoly of trade in opium.

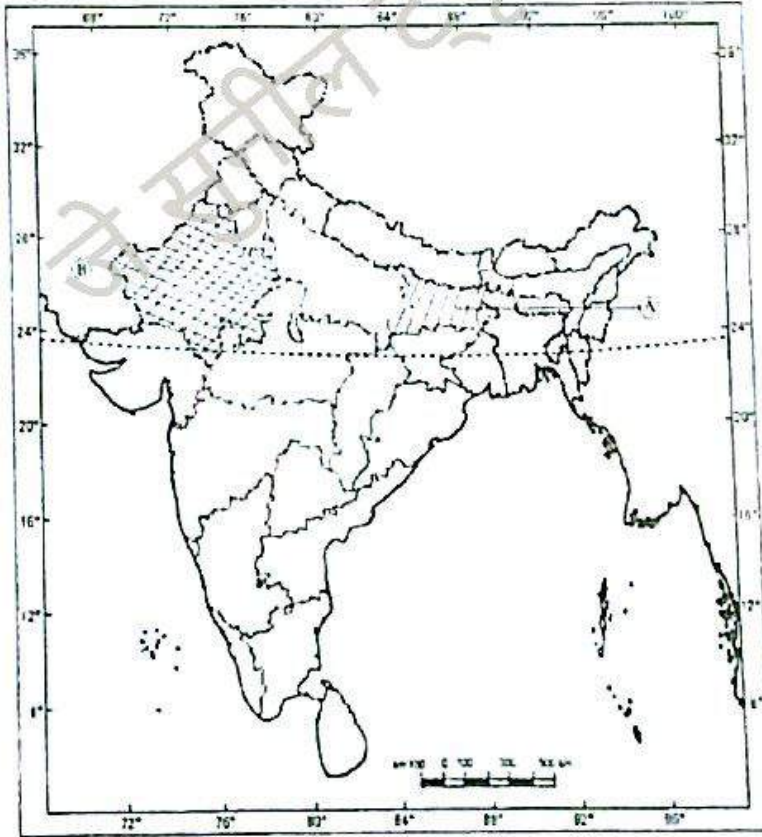
Note : The following questions are for the visually impaired candidates only in lieu of map question.

(27.1) Name the state where British government established monopoly to trade in opium.

(27.2) Name the state where battle of Plassey was fought.

(27.3) Name the state from where large amounts of opium flowed out.

Political Map of India



28 (a) दिए हुए भारत के राजनीतिक रेखामानचित्र में (A) और (B) पर दो लक्षण चिन्हित किये गए हैं। नीचे दी गयी 3

- जानकारी के आधार पर इन लक्षणों की पहचान कर मानचित्र में दो चिन्हित रेखाओं पर उनके सही नाम लिखिए :
- (A) मौसम विज्ञान केन्द्र
(B) राष्ट्रीय उद्यान
- (b) उसी मानचित्र पर निम्नलिखित लक्षण को उपयुक्त संकेत के द्वारा दर्शाइये एवं उसका नाम लिखिए :
- (C) सबसे कम जनसंख्या के घनत्व वाला राज्य

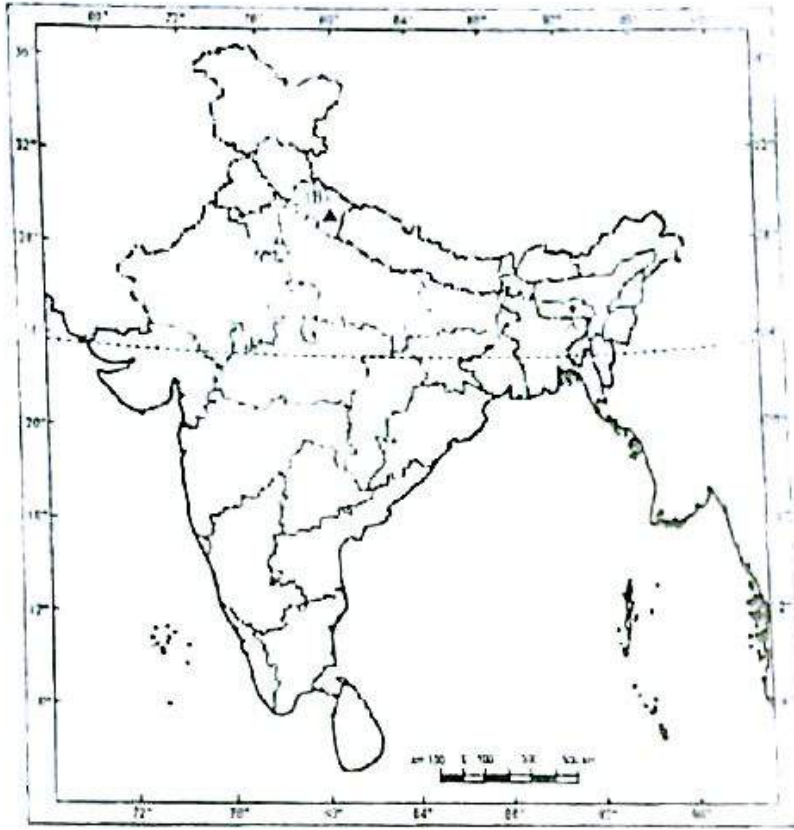
नोट : निम्नलिखित प्रश्न केवल दृष्टिबाधित परीक्षार्थियों के लिए मानचित्र प्रश्न के स्थान पर हैं :

- (28.1) मेघालय स्थित प्रसिद्ध मौसम विज्ञान केन्द्र का नाम लिखिए।
(28.2) दाचीगाम राष्ट्रीय उद्यान किस राज्य में अवस्थित है ?
(28.3) सबसे कम जनसंख्या के घनत्व वाले राज्य का नाम लिखिए।
- (a) Two features (A) and (B) are shown in the political outline map of India. Identify these features with the help of the following information and write their correct names on the lines marked on the map.
(A) A meteorological station.
(B) A National Park.
- (b) On the same political outline map of India locate and label the following feature with appropriate symbol.
(C) The stat having lowest density of population

Note : The following questions are for the visually impaired candidates only, in lie of map question.

- (28.1) Name the famous meteorological station of Meghalaya.
(28.2) In which state of India Dachigam National Park is located ?
(28.3) Name the state having lowest density of population.

Political Map of India



खंड ख (मुक्त पाठ्यवस्तु आधारित प्रश्न) / SECTION - B (OTBA)

(*कृपया सुनिश्चित कर लें कि इस विषय का मुक्त पाठ दस प्रश्न-पत्र के साथ उपलब्ध है)

(* Please ensure that open text of the given theme is supplied with this question paper)

विषय : करें उन्नति साथ-साथ / Theme : Together We Rise

- 29 एक दुग्ध विमान किसी दैनिकी गृहकारी माल्या का सदस्य कैसे बन सकता है? 5
How can a milk farmer become a member of any Dairy Cooperative Society?
- 30 ग्रामीण महिला उद्यमी महासंघ के उद्देश्यों को स्पष्ट कीजिए। 5
Explain the objectives of Rural Women's Entrepreneur Federation (RWEF)
