

DAV

SUMMATIVE ASSESSMENT - II (2014-15)

DAV Patna Region Class - IX SOCIAL SCIENCE Y8ORQZY

Time allowed : 3 hours

Maximum Marks : 90

निर्धारित समय : 3 घण्टे

अधिकतम अंक : 90

सामान्य निर्देश :

- (i) इस प्रश्न पत्र में दो खंड (खंड क तथा खंड ख) एवं कुल 30 प्रश्न हैं। प्रत्येक प्रश्न अनिवार्य है।
- (ii) प्रत्येक प्रश्न के सामने उसके अंक लिखे हुए हैं।
- (iii) प्रश्न क्रमांक 1 से 8 तक एक-एक अंक के हैं। इनके उत्तर एक शब्द अथवा एक वाक्य में दें।
- (iv) प्रश्न क्रमांक 9 से 20 तक प्रत्येक प्रश्न 3 अंक का है। इनमें से प्रत्येक प्रश्न का उत्तर 80 शब्दों से अधिक नहीं होना चाहिए।
- (v) प्रश्न क्रमांक 21 से 26 तक प्रत्येक प्रश्न 5 अंक का है। इनमें से प्रत्येक प्रश्न का उत्तर 120 शब्दों से अधिक नहीं होना चाहिए।
- (vi) प्रश्न क्रमांक 27 और 28 मानचित्र सम्बन्धी प्रश्न 3-3 अंक के क्रमशः इतिहास और भूगोल से हैं। उत्तर लिखने के बाद मानचित्र को अपनी उत्तर पुस्तिका के अन्दर रखकर बांध दीजिए।
- (vii) प्रश्न क्रमांक 29 और 30 मुक्त पाठ पर आधारित हैं तथा प्रत्येक प्रश्न 5 अंक का है।

General Instructions :

- (i) The question paper has two sections (Section A and Section B) with 30 questions in all. All questions are compulsory.
- (ii) Marks are indicated against each question.
- (iii) Questions from serial number 1 to 8 are very short answer type questions. Each question carries one mark.
- (iv) Questions from serial number 9 to 20 are 3 marks questions. Answer of these questions should not exceed 80 words each.
- (v) Questions from serial number 21 to 26 are 5 marks questions. Answer of these questions should not exceed 120 words each.
- (vi) Question number 27 and 28 are map question of 3 marks each, from History and Geography respectively. After completion, attach the maps inside your answer book.
- (vii) Question number 29 and 30 are from Open Text themes and each question is of 5 marks.

खंड क

SECTION - A

- 1 धंगर समुदाय के लोगों द्वारा व्यापार किए जाने वाले किन्हीं दो उत्पादों के नाम बताइए। 1
Name any two products traded by the Dhanghar.

OR/अथवा

- 1 यूरोपीय वनरक्षकों की नजर में घुमंतू कृषि, वनों के लिए हानिकारक क्यों थी? 1
Why did European foresters regard 'shifting cultivation' as harmful for the forests?

OR/अथवा

- 1 बाड़ाबंदी आन्दोलन का भूस्वामियों को क्या लाभ था? 1
What was the advantage of Enclosure Movement to landowners?

- 2 गिर वन किस राज्य में स्थित है? 1
In which state is the Gir forest located?

- 3 'अवसरों की समानता' की व्याख्या कीजिए। 1
Explain the term 'Equality of Opportunity'.

- 4 चुनावी प्रतियोगिता का एक लाभ लिखिए। 1
Write one merit of an electoral competition?

- 5 भारत में किस प्रकार की न्यायपालिका है? 1
What kind of judiciary do we have in India?

- 6 टी.पी.डी.एस. का लक्ष्य क्या था? 1
What was the target of TPDS?

- 7 अकाल का मुख्य कारण लिखिए। 1
Write the major cause of famine.

8 सर्वाधिक खाद्य असुरक्षित सामाजिक समूहों का नाम लिखिए। 1
Name the social groups which are more food insecure.

9 औपनिवेशिक काल के दौरान चरवाहों के पशुओं के भंडार में संख्या एवं गुणवत्ता दोनों की दृष्टिकोण 3
से क्यों ह्रास आया? किन्हीं तीन कारणों को स्पष्ट कीजिए।
Why did the animal stock of the pastoralist deteriorate in term of number and quality during the colonial period ? Explain any three reasons.

OR/अथवा

वनों पर विश्व युद्ध के प्रभावों का वर्णन कीजिए। 3
Describe the impact of World Wars on the forests.

QUESTION PAPER @2015 For SA2

JSUNIL TU OR/अथवा

अफीम युद्ध को इस नाम से क्यों जाना जाता है और इसके मुख्य परिणाम क्या थे? 3
Why was the Opium War called so and what were its major consequences ?

10 भारतीयों में क्रिकेट के खेल की शुरुआत किसने की तथा कैसे? 3
Who initiated the game of cricket among Indians and how ?

OR/अथवा

1789 से पूर्व फ्रांस में कौन-सा कानून पहनावे को नियंत्रित करता था? इस कानून से कौन प्रभावित 3
होते थे और कैसे?
Which law regulated clothing in France prior to 1789 ? Who were affected by it and how ?

11 इंग्लैण्ड में क्रिकेट के खेल का विकास किस प्रकार हुआ? व्याख्या कीजिए। 3
How did the game of cricket develop in England ? Explain.

OR/अथवा

औरते कॉर्सेट क्यों पहनती थी ? 3
Why did women wear corsets ?

- 12 राजस्थान के कुछ भागों में पारा 50°C तक चला जाता है जबकि जम्मू और कश्मीर के पहलगौंव में 20°C ही रहता है। क्यों ?
Why does mercury rise up to 50 degree Celsius in certain places in Rajasthan whereas 20 degree Celsius in Pahalgam in Jammu and Kashmir? 3
- 13 भारत में जनसंख्या के असमान वितरण के प्रमुख रूप से उत्तरदाई किन्हीं तीन कारकों की व्याख्या कीजिए।
Explain any three factors primarily responsible for uneven distribution of population in India. 3
- 14 भारत विश्व के मुख्य 12 जैव विविधता वाले देशों में एक किस प्रकार है ?
How is India one of the twelve mega biodiversity countries of the world ? 3
- 15 आदर्श आचार संहिता से क्या तात्पर्य है ? चुनाव अभियान के दौरान इससे किन मूल्यों की अपेक्षा की जाती है ?
What is the model code of conduct ? What values are expected through model code of conduct for election campaigns ? 3
- 16 स्थायी कार्यपालिका के किन्हीं तीन कार्यों का उल्लेख कीजिए।
Mention any three functions of the permanent executive? 3
- 17 गुआंतानामो बे में कैदियों की स्थिति को सुधारने के लिए एमनेस्टी इन्टरनेशनल द्वारा किए गए योगदान की व्याख्या कीजिए।
Explain the contribution made by the Amnesty International to improve the condition of prisoners in Guantanamo Bay. 3
- 18 राशन कार्ड धारक प्रति माह कितनी मात्रा में अनाज, केरोसीन तथा चीनी खरीद सकता है ?
Mention the quantity of grains, kerosine and sugar which can be purchased by a ration card holder every month. 3
- 19 खाद्य सुरक्षा के विभिन्न आयामों को स्पष्ट कीजिए।
Explain the different dimensions of food security. 3
- 20 सरकार के द्वारा विशेषक मूल्य नीति (डिफरेंशियल प्राइस पालिसी) कब अपनाया गया? इनकी मुख्य विशेषताएँ क्या थीं?
When was a differential price policy adopted by the government ? What were its characteristic features ? 3

different government of society

- 21 घुमंतू चरवाहों के जीवकोपार्जन के मुख्य स्रोतों का वर्णन कीजिए। 5
Describe the main sources of the livelihood of the pastoral nomads.
- OR/अथवा
- बस्तर के आदिवासियों के जीवन का वर्णन कीजिए। 5
Describe the life of the tribal people of Bastar.
- OR/अथवा
- संयुक्त राज्य अमेरिका में थ्रेशिंग मशीनों के प्रयोग के तीन लाभ तथा दो हानियों का उल्लेख कीजिए। 5
Mention any three advantages and two disadvantages of using harvesting machine in the USA ?
- 22 18 वीं सदी के उत्तरार्ध में एम.सी.सी. के द्वारा क्रिकेट में किस प्रकार के परिवर्तन लाए गए ? 5
What kind of changes were introduced by MCC in the second half of 18th century in cricket ?
- QUESTION PAPER @2015 For SA2
- JSUNIL TUTORIAL
- OR/अथवा
- प्रथम विश्व युद्ध के दौरान कपड़ों के छोटे होने के क्या कारण थे ? 5
Why did the clothes get shorter during World War I ?
- 23 कंटिले वन तथा झाड़ियों की प्रमुख विशेषताओं की व्याख्या कीजिए। 5
Explain the main characteristics of the Thorn forests and Scrubs.
- 24 भारत के उष्णकटिबंधीय वर्षा वनों के किन्हीं पाँच विशिष्ट लक्षणों का वर्णन कीजिए। 5
Describe any five characteristic features of tropical rain forests of India.
- 25 चुनावों के दौरान होने वाले विभिन्न प्रकार के कदाचारों का वर्णन कीजिए। 5
Describe some unfair practices that take place during elections?
- 26 "प्रधानमंत्री सरकार का मुखिया होता है।" कथन की पुष्टि कीजिए। 5
"Prime Minister is the head of the government." Justify the statement.

परीक्षार्थी को प्रश्न संख्या 27a, 27b एवं 27c में से किसी एक मानचित्र प्रश्न का उत्तर देना है। प्रश्न संख्या 28 अनिवार्य है। मानचित्र प्रश्नपत्र में संलग्न हैं।

The student has to attempt any one map question from question numbers 27a, 27b and 27c. Question no. 28 is compulsory. The maps are attached with the question paper.

27a दिए हुए भारत के राजनीतिक रेखामानचित्र में A और B पर दो लक्षण चिह्नित किये गए हैं। नीचे दी गयी जानकारी के आधार पर इन लक्षणों की पहचान कर मानचित्र में ही चिह्नित रेखाओं पर उनके सही नाम लिखिए :

(A) गद्दी गड़ेरियों से संबंधित राज्य

(B) वह स्थान जहाँ वार्षिक ऊँट मेले का आयोजन किया जाता है।

उसी मानचित्र पर निम्नलिखित को उपयुक्त संकेत द्वारा दर्शाइये एवं उनके नाम लिखिए :

(C) राज्य जहाँ मालधारी पशुपालक रहते हैं।

नोट : निम्नलिखित प्रश्न केवल दृष्टिबाधित परीक्षार्थियों के लिए मानचित्र प्रश्न के स्थान पर हैं :

(27.1) गद्दी गड़ेरियों से संबंधित राज्य का नाम लिखिए।

(27.2) वार्षिक ऊँट मेले का आयोजन किस स्थान पर किया जाता है ?

(27.3) उस राज्य का नाम लिखिए जहाँ मालधारी गड़ेरिए रहते हैं।

Two items A and B are shown in the given political outline map of India. Identify these items with the help of following information and write their correct names on the lines marked on the map.

(A) State related to the Gaddi shepherds.

(B) Place where camel fair is organized annually.

On the same political outline map of India, locate and label the following items with appropriate symbol.

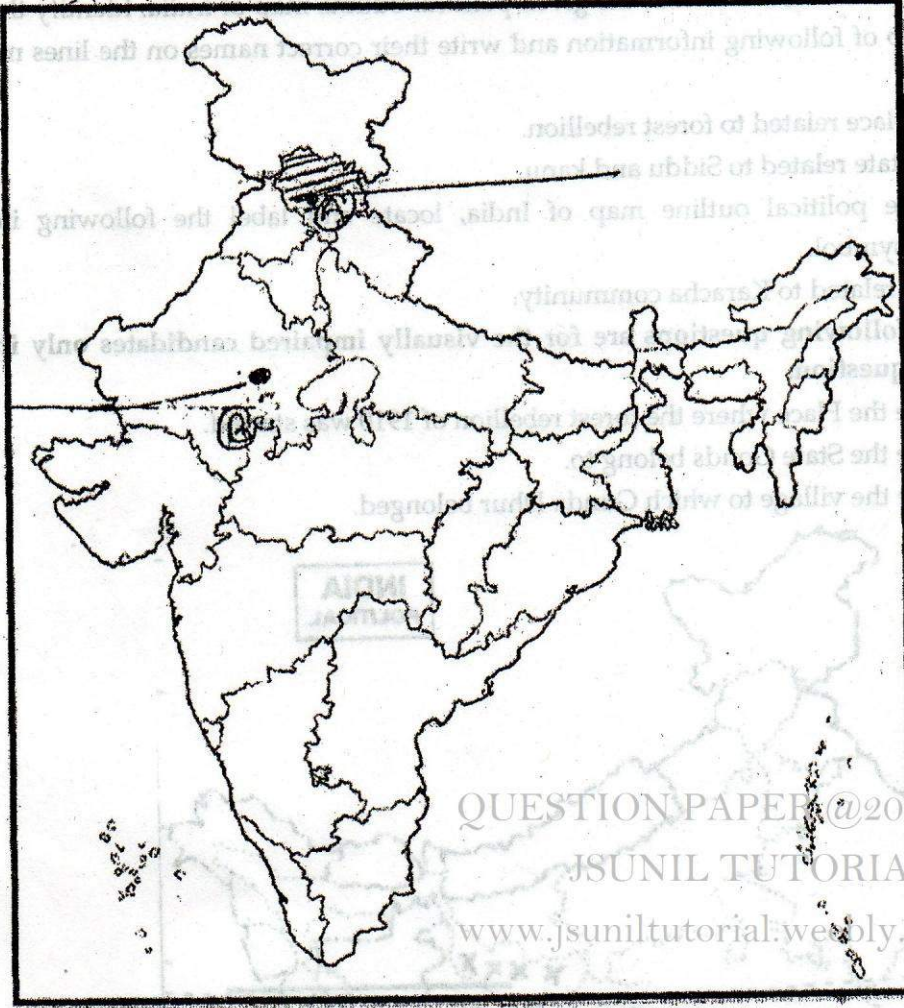
(C) State : where Maldhari herders live.

Note : The following questions are for the visually impaired candidates only in lieu of map question.

(27.1) Name the state which is related to Gaddi shepherds.

(27.2) At which place is a camel fair organised annually ?

(27.3) Name the state where Maldhari shepherds live.



QUESTION PAPER @2015 For SA2
JSUNIL TUTORIAL
www.jsuniltutorial.weebly.com/

OR/अथवा

27b दिए हुए भारत के राजनीतिक रेखामानचित्र में A और B पर दो लक्षण चिन्हित किये गए हैं। नीचे दी गयी जानकारी के आधार पर इन लक्षणों की पहचान कर मानचित्र में ही चिन्हित रेखाओं पर उनके सही नाम लिखिए :

(A) वन विद्रोह से संबन्धित स्थान।

(B) सिद्ध और कानू से संबन्धित राज्य।

उसी मानचित्र पर निम्नलिखित को उपयुक्त संकेत द्वारा दर्शाइये एवं उसका नाम लिखिए :

(C) कराचा समुदाय से संबन्धित राज्य।

नोट : निम्नलिखित प्रश्न केवल दृष्टिबाधित परीक्षार्थियों के लिए मानचित्र प्रश्न के स्थान पर हैं:

(27.1) उस स्थान का नाम लिखिए जहाँ 1910 में वन विद्रोह प्रारम्भ हुआ।

(27.2) उस राज्य का नाम लिखिए जहाँ गोण्ड निवास करते हैं।

(27.3) उस गाँव का नाम लिखिए जहाँ गुण्डा धूर निवास करता था।

Two items A and B are shown in the given political outline map of India. Identify these items with the help of following information and write their correct names on the lines marked on the map.

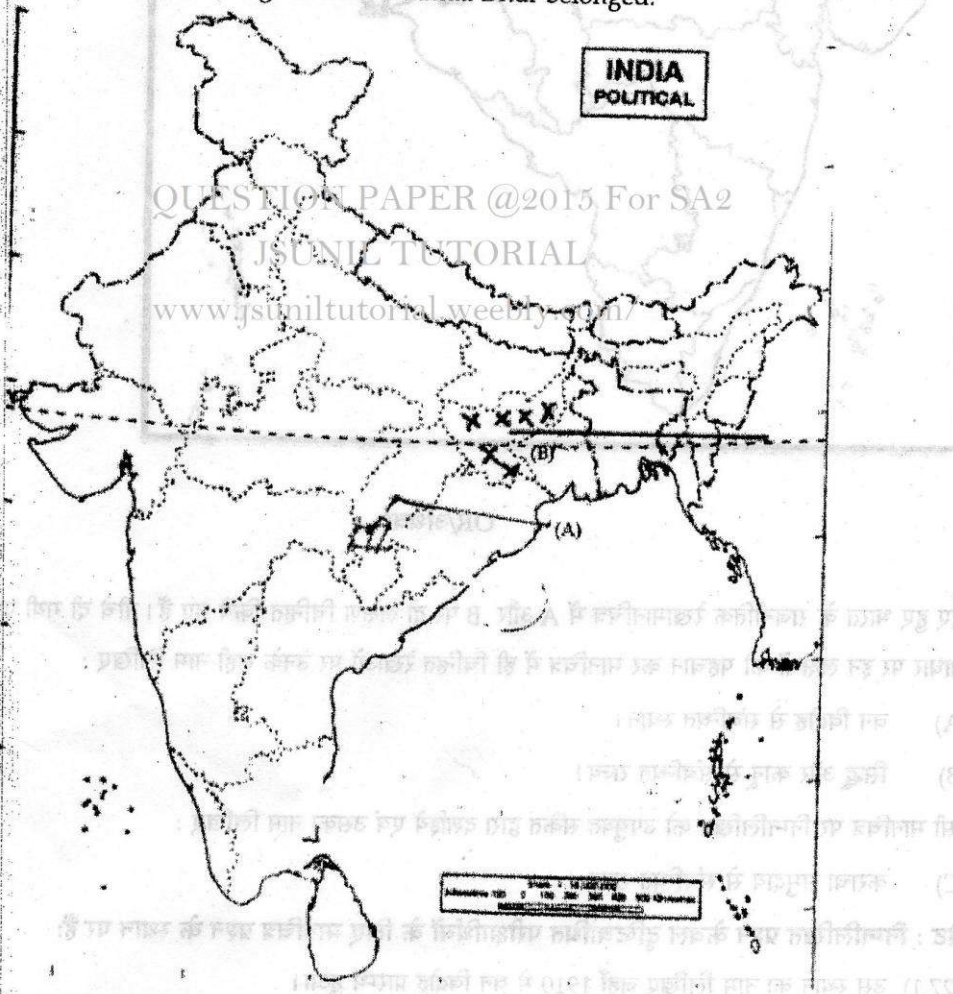
- (A) The place related to forest rebellion.
- (B) The state related to Siddu and Kanu.

On the same political outline map of India, locate and label the following item with appropriate symbol.

- (C) Place related to Karacha community.

Note: The following questions are for the visually impaired candidates only in lieu of map question.

- (27.1) Name the Place where the forest rebellion of 1910 was started.
- (27.2) Name the State Gonds belong to.
- (27.3) Name the village to which Gunda Dhur belonged.



OR/अथवा

27c. दिए हुए भारत के राजनीतिक रेखामानचित्र में A और B पर दो लक्षण चिह्नित किये गए हैं। नीचे दी गयी जानकारी के आधार पर इन लक्षणों की पहचान कर मानचित्र में ही चिह्नित रेखाओं पर उनके सही नाम लिखिए : 3

(A) राज्य : जहाँ अंग्रेज सरकार ने अफ्रीम के व्यापार पर एकाधिकार जमा लिया था।

(B) एक गैर ब्रिटिश क्षेत्र जहाँ अफ्रीम की खेती फल फूल रही थी।

उसी मानचित्र पर निम्नलिखित को उपयुक्त संकेत द्वारा दर्शाइये एवं उसका नाम लिखिए :

(C) वह राज्य जहाँ अंग्रेजों ने किसानों को अफ्रीम की खेती के लिए विवश किया था।

नोट : निम्नलिखित प्रश्न केवल दृष्टिबाधित परीक्षार्थियों के लिए मानचित्र प्रश्न के स्थान पर हैं :

(27.1) अंग्रेज व्यापारी कहाँ से चाय लेकर इंग्लैण्ड को निर्यात करते थे ?

(27.2) ऐसे किसी एक राज्य का नाम लिखिए जहाँ अंग्रेजों ने किसानों को अफ्रीम की खेती करने पर विवश किया ?

(27.3) प्लासी की लड़ाई किस वर्ष हुयी थी ?

Two items A and B are shown in the given political outline map of India. Identify these items with the help of following information and write their correct names on the lines marked on the map.

(A) An area not under British control where production of opium was increasing.

On the same political outline map of India, locate and label the following item with appropriate symbol.

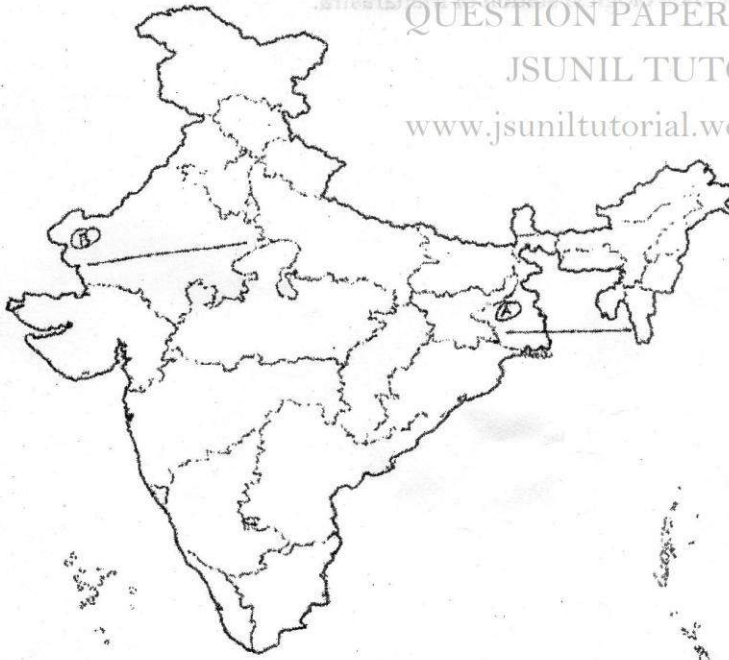
(B) The state where the British forced the peasants to grow opium.

Note : The following questions are for the visually impaired candidates only in lieu of map question.

(27.1) From where did British traders take tea to export to England ?

(27.2) Name a state where British forced the peasants to grow opium.

(27.3) In which year was the Battle of Plassey fought ?



QUESTION PAPER @2015 For SA2

JSUNIL TUTORIAL

www.jsuniltutorial.weebly.com/

a) The state were british government gain monopali to trade opium

दिए हुए भारत के राजनीतिक रेखामानचित्र में A और B पर दो लक्षण चिह्नित किये गए हैं। नीचे दी गयी जानकारी के 3 आधार पर इन लक्षणों की पहचान कर मानचित्र में ही चिह्नित रेखाओं पर उनके सही नाम लिखिए :

(A) एक प्रकार का वन

(B) एक राष्ट्रीय उद्यान

उसी मानचित्र पर निम्नलिखित को उपयुक्त संकेत द्वारा दर्शाइये एवं उसका नाम लिखिए :

(C) महाराष्ट्र का मौसम विज्ञान केन्द्र

नोट : निम्नलिखित प्रश्न केवल दृष्टिबाधित परीक्षार्थियों के लिए मानचित्र प्रश्न के स्थान पर हैं :

(28.1) मैंग्रोव वन भारत में कहाँ पाए जाते हैं?

(28.2) दाचीगाम राष्ट्रीय पार्क भारत के किस राज्य में अवस्थित है?

(28.3) महाराष्ट्र के मौसम विज्ञान केन्द्र का नाम लिखिए।

Two items A and B are shown in the given political outline map of India. Identify these items with the help of following information and write their correct names on the lines marked on the map.

(A) A type of forest

(B) A National Park.

On the same political outline map of India, locate and label the following item with appropriate symbol.

(C) A meteorological station of Maharashtra.

Note: The following questions are for the visually impaired candidates only, in lieu of map question.

(28.1) Where are Mangrove forests found in India ?

(28.2) In which state of India is Dachigam National park located ?

(28.3) Name the meteorological station of Maharashtra.

QUESTION PAPER @2015 For SA2

JSUNIL TUTORIAL

www.jsuniltutorial.weebly.com/

